

ВЕСЕЛА ЗУПИНКА



ПОЛЮВАННЯ У КНИЗІ МОРМОНА

Почніть із запитання А. Потім, скориставшись відповіддю на попереднє запитання, заповніть перший порожній рядок у наступному запитанні. В кінці у вас буде посилання на уривок з Писань з темою на 2024 рік для молоді.

- А.** Почніть з 1 Нефій 1:9–10. Скількох “інших” бачив Нефій, які пішли за “Одним” (Спасителем)? _____
- Б.** Перейдіть до Омній 1:[А]_____. Кого було зроблено царем над землею Зарагемля? _____
- В.** Перейдіть до [Б]_____ 17:2. Хто повірив словам Авінадія? _____
- Г.** Перейдіть до [В]_____ 53:22. Хто очолив похід 2000 юних воїнів? _____
- Д.** Перейдіть до [Г]_____ 14:2. Через скільки років мав прийти Спаситель? _____

- Е.** Перейдіть до Мосія 6:[Д]_____. Скільки ще років прожив цар Веніямин? _____
- Є.** Перейдіть до 2 Нефій [Е]_____:25. До чиїх слів, за словами Легія, потрібно було прислухатися Йосипу? _____
- Ж.** Перейдіть до [Є]_____ 23. У підзаголовку до розділу сказано, що текст слід порівняти з Ісаєю _____.

Уривок з Писань для теми на 2024 рік для молоді:
[Е]_____ [Є]_____ [Д]_____: [Ж]_____

Що цей уривок з Писань означає для вас?

Відповіді на сторінці 31.



ЛАБІРИНТ “ДЕРЕВО ЖИТТЯ”

Лише одна стежка веде до дерева життя. Чи можете ви знайти, яка саме?

Візуальна розгадка на [ftsou.ChurchofJesusChrist.org](https://www.ftsou.ChurchofJesusChrist.org).

РІК ЗАВЕРШЕННЯ ПЕРЕКЛАДУ

У якому році Джозеф Сміт завершив переклад золотих пластин? Щоб знайти це, вам потрібно вирішити головоломку, “переклавши” фігури у цифри, які вони представляють. Потім в кінці порахуйте.

Примітка: кожна фігура представляє одне конкретне число. Порада тим, хто хоче ускладнити завдання: цю головоломку можна вирішити без підказок. Але перш ніж ви застрягнете, повідомляємо, деякі підказки містяться догори дригом внизу цієї сторінки.

А.  = _____



Б.  = 

В.  = 

Найгірше, що може бути у молодшого брата Голіафа, це необхідність доношувати його одяг.










ВЕЛ ЧЕДВІК БЕГЛІ

Г.  x 1/2  = 8

Д.  x  = 

Математична задача:

 x  + 1/2  = 

 x  x  +  - 100 = _____

Підказка 1: Уважно подивіться на рядки А та Д (вони поруч).
Підказка 2: Діст не зрозуміли? В пунтмі А три [трикутники] = [прямокутник] x що = [прямокутник] x що = [прямокутник].
Підказка 3: Ну добре, добре. [Трапеція] = 3.