

ĐIỂM DỪNG CHÂN THỨ VỊ



TRUY TÌM KHO BÁU TRONG SÁCH MẶC MÔN

Bắt đầu với câu hỏi A. Sau đó sử dụng câu trả lời từ câu hỏi trước để điền vào chỗ trống đầu tiên trong câu hỏi kế tiếp. Cuối cùng, các em sẽ có phần tham khảo thánh thư cho chủ đề giới trẻ năm 2024.

- A.** Bắt đầu trong 1 Nê Phi 1:9-10. Nê Phi đã thấy có bao nhiêu “người khác” đi theo “Một Vị” (Đấng Cứu Rỗi)? _____
 - B.** Mở ra Ôm Ni 1:[A]_____. Ai đã được lập lên làm vua xứ Gia Ra Hem Lơ? _____
 - C.** Mở ra [B]_____ 17:2. Ai tin những lời A Bi Na Đì đã nói? _____
 - D.** Mở ra [C]_____ 53:22. Ai đã dẫn đầu 2.000 chiến sĩ trẻ tuổi? _____
 - E.** Mở ra [D]_____ 14:2. Trong bao nhiêu năm, Đấng Cứu Rỗi sẽ đến? _____
- F.** Mở ra Mô Si A 6:[E]_____. Vua Bê Nê Gia Min đã sống thêm bao nhiêu năm nữa? _____
 - G.** Mở ra 2 Nê Phi [F]_____:25. Lê Hi đã bảo Giô Sép phải nghe theo lời của ai? _____
 - H.** Mở ra 2 [G]_____ 23. Tiêu đề chương nói để so sánh với Ê Sai _____.

Thánh Thư Chủ Đề năm 2024: [F]_____ [G]_____ [E]_____: [H]_____

Câu thánh thư này có ý nghĩa gì đối với các em?

Đáp án ở trang 31.



MÊ CUNG CÂY SỰ SỐNG

Chỉ có một con đường dẫn đến cây sự sống. Các em có thể tìm ra đó là đường nào không?

Tìm đáp án trực quan tại ftsoy.ChurchofJesusChrist.org.


ĐẾN LÚC PHIÊN DỊCH

Joseph Smith hoàn thành việc phiên dịch các bảng khắc bằng vàng vào năm nào? Để biết được điều đó, các em sẽ phải giải câu đố bằng cách “phiên dịch” các hình sau thành những con số mà chúng tượng trưng. Rồi cuối cùng giải phép tính đó.

Lưu ý: Mỗi hình tượng trưng cho một con số cụ thể. Dành cho những bạn nào muốn thử thách khó hơn, câu đố này có thể được giải mà không cần bất kỳ gợi ý nào. Nhưng nếu các em đang bị bí, thì có một số gợi ý được viết đảo ngược ở cuối trang này.

A.  $\triangle + \triangle + \triangle = \square$

B.  $\square - \text{trapezoid} = \text{hexagon}$

C.  $\text{hexagon} \div \text{diamond} = \text{trapezoid}$

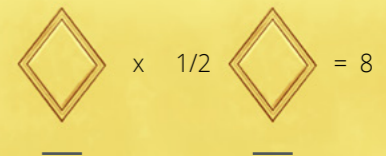
HÌNH ẢNH MINH HỌA DO BEN ROWBERRY THỰC HIỆN

Đáp án ở trang 31. Tìm đáp án trực quan tại ftsoy.ChurchofJesusChrist.org.

Điều tồi tệ nhất của việc trở thành em trai của Gô Li Át là phải mặc đồ cũ của anh ấy.

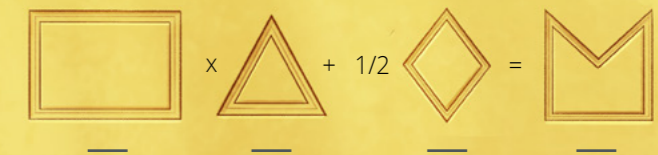


HÌNH ẢNH MINH HỌA DO VAL CHADWICK BAGLEY THỰC HIỆN

D.  $\text{diamond} \times \frac{1}{2} \text{diamond} = 8$

E.  $\triangle \times \text{trapezoid} = \square$

Bài Toán:

 $\square \times \triangle + \frac{1}{2} \text{diamond} = \text{M-shape}$

 $\text{M-shape} \times \triangle \times \triangle + \text{diamond} - 100 = \square$

Gợi ý 1: Nhìn kỹ vào các hàng A và E cạnh nhau. [hình chữ nhật] x [hình chữ nhật], vì vậy, trong hàng E, một [hình tam giác] x [hình chữ nhật]. Vì vậy, trong hàng E, một [hình tam giác] x [hình chữ nhật].
Gợi ý 2: Văn còn bị từ Trong hàng E, ba [hình tam giác] x [hình chữ nhật] được rồi, được rồi. [hình hình] = 3.
Gợi ý 3: Được rồi, được rồi.