

EVEN WAT ANDERS



OP SPEURTOCHT IN HET BOEK VAN MORMON

Begin met vraag A. Gebruik het antwoord om vraag B aan te vullen, en vul daarna elke vraag aan met het antwoord op de vorige vraag. Je komt dan uit bij de tekstverwijzing van het jongerenthema 2024.

- A. Start in 1 Nephi 1:9-10. Hoeveel 'anderen' zag Nephi de 'Ene' (de Heiland) volgen? _____
- B. Ga naar Omni 1:[A]_____. Wie werd koning van het land Zarahemla? _____
- C. Ga naar [B]_____ 17:2. Wie geloofde wat Abinadi zei? _____
- D. Ga naar [C]_____ 53:22. Wie was de aanvoerder van de tweeduizend jonge strijders? _____
- E. Ga naar [D]_____ 14:2. Over hoeveel jaar zou de Heiland komen? _____
- F. Ga naar Mosiah 6:[E]_____. Hoeveel jaar heeft koning Benjamin daarna nog geleefd? _____
- G. Ga naar 2 Nephi [F]_____:25. Naar wie moest Jozef volgens Lehi luisteren? _____
- H. Ga naar 2 [G]_____ 23. In het opschrift van het hoofdstuk staat een vergelijking met Jesaja _____.

Tekstverwijzing van het jongerenthema 2024:
[F]_____ [G]_____ [E]_____: [H]_____

Wat betekent die Schrifttekst voor jou?

Antwoorden op pagina 31.



DOOLHOF NAAR DE BOOM DES LEVENS

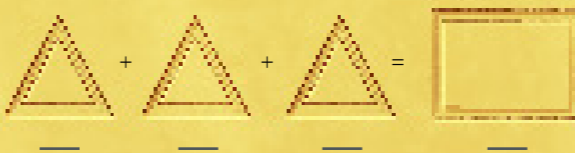
Er is maar één juiste weg naar de boom des levens. Welke is het?


De oplossing staat op ftsoy.ChurchofjesusChrist.org.


ONTCIJFER DE TEKENS

In welk jaar was Joseph Smith klaar met de vertaling van de gouden platen? Zoek uit met welke getallen deze geometrische figuren overeenkomen. Maak dan de som.

Let op: elke figuur stelt één bepaald getal voor. Als je wel van een uitdaging houdt, *kun* je deze puzzel zonder hints oplossen. Maar als je vastloopt, staan er onderaan deze pagina wat hints.

A.  = _____

B.  = _____

C.  = _____

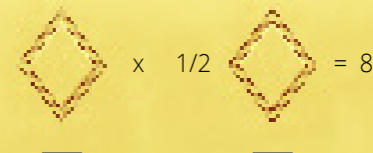
ILLUSTRATIES: BEN ROWBERRY

Antwoord op pagina 31. De oplossing staat op ftsoy.ChurchofjesusChrist.org.

Het ergste aan Goliaths broertje zijn, is dat ik al zijn afgedragen kleren krijg.

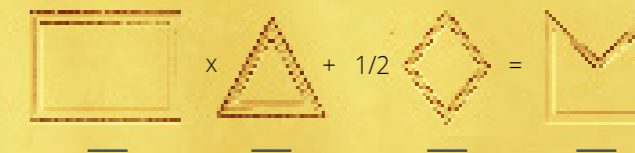



VAL CHADWICK BAGLEY

D.  = 8

E.  = _____

Los de som op:

 = _____

 = _____

Hint 1: Leg rij A en rij E eens naast elkaar en kijk goed.
Hint 2: Kom je er nog niet uit? In rij A staat: drie [driehoeken] = [rechioek]. Welk getal moet je in rij E dan met [driehoek] vermenigvuldigen om [rechioek] te krijgen?
Hint 3: Oké, oké. [trapezium] = 3.