

# LINKSMASIS KAMPELIS



## LOBIŲ PAIEŠKA MORMONO KNYGOJE

Pradėkite nuo klausimo A. Tada įrašykite ankstesnio klausimo atsakymą, kad užpildytumėte kito klausimo pirmąją tuščią vietą. Pabaigoje surasite 2024 m. jaunimo temos Raštų nuorodą.

- A.** Pradėkite nuo 1 Nefio 1:9–10. Kiek Nefis matė „kitų“, sekančių „Vieną“ (Gelbėtojų)? \_\_\_\_\_
- B.** Susiraskite Omnio 1:[A]\_\_\_\_\_. Kas buvo išrinktas Zarahemlos žemės karaliumi? \_\_\_\_\_
- C.** Susiraskite [B]\_\_\_\_\_. 17:2. Kas patikėjo Abinadžio pasakytais žodžiais? \_\_\_\_\_
- D.** Susiraskite [C]\_\_\_\_\_. 53:22. Kas žygiavo 2000 jaunųjų karių priešakyje? \_\_\_\_\_
- E.** Susiraskite [D]\_\_\_\_\_. 14:2. Po kiek metų turėjo ateiti Gelbėtojas? \_\_\_\_\_
- F.** Susiraskite Mozijo 6:[E]\_\_\_\_\_. Kiek metų dar gyveno karalius Benjaminas? \_\_\_\_\_
- G.** Susiraskite 2 Nefio [F]\_\_\_\_\_:25. Kieno žodžių Lehis liepė klausyti Juozapui? \_\_\_\_\_
- H.** Susiraskite 2 [G]\_\_\_\_\_. 23. Skyriaus antraštėje sakoma, kad reikia palyginti su Izaijo \_\_\_\_\_.

2024 m. temos Raštų eilutė: [F]\_\_\_\_ [G]\_\_\_\_ [E]\_\_\_\_: [H]\_\_\_\_

Ką jums reiškia ši Raštų eilutė?

Atsakymai 31 puslapyje.



## GYVYBĖS MEDŽIO LABIRINTAS

Tik vienas takas veda prie gyvybės medžio. Ar sugebėsite jį rasti?

Vaizdinį sprendinį rasite adresu [fsoy.ChurchoffesusChrist.org](https://fsoy.ChurchoffesusChrist.org).



## VERTIMO DATA

Kuriais metais Džozefas Smitas baigė versti auksines plokšteles? Norėdami tai išsiaiškinti, turėsite išspręsti galvosūkį „išversdami“ figūras į skaičius, kuriuos jos reiškia. Tada pabaigoje atlikite matematikos užduotį.

Pastaba. Kiekviena figūra reiškia vieną konkretų skaičių. Ieškantiems iššūkio – šį galvosūkį galima išspręsti be užuominų. Bet jei jums sunku, šio puslapio apačioje rasite apverstas kelias užuominas.

**A.**  +  +  = 

**B.**  -  = 

**C.**  ÷  = 



BENO ROUBERIO ILLUSTRACIJOS

Atsakymas 31 puslapyje. Vaizdinį sprendinį rasite adresu [fsoy.ChurchoffesusChrist.org](https://fsoy.ChurchoffesusChrist.org).

Mažajam Galijoto broliukui sunkiausia yra tai, kad tenka vilkėti Galijoto dėvėtus drabužius.











VALAS ČADVIKAS BEGLIS

**D.**  x 1/2  = 8

**E.**  x  = 

### Matematikos užduotis:

 x  + 1/2  = 

 x  x  +  - 100 =

1 užuomina. Atdziai palyginkite A ir E eilutes. 2 užuomina. Vis dar sunku? A eiluteje rasy [trikampis] x kiek = [stotakampis]. Tai gi E eiluteje vienas [trikampis] x kiek = [stotakampis]? 3 užuomina. Gerai jau, gerai! [Trapezija] = 3.