

# ចំណាត់ សប្បាយ។



## ការប្រមាញ់ ព្រះគម្ពីរមរមន

ចាប់ផ្តើមជាមួយនិងសំណួរ ក ។ បន្ទាប់មកប្រើចម្លើយពីសំណួរមុនដើម្បីបញ្ចប់បន្ទាត់ទេទីមួយនៅក្នុងសំណួរបន្ទាប់ ។ នៅទីបញ្ចប់ អ្នកនឹងមានបទគម្ពីរយោងសម្រាប់បាចនាយុវ័យ ឆ្នាំ ២០២៤ ។

- A. ចាប់ផ្តើមនៅក្នុង នំហ្វឺនី ១៖៩-១០ ។ តើមានប៉ុន្មាន « នាក់ទៀត » ដែលនឹងត្រូវបានឃើញមកតាម « មួយអង្គ » នោះ ( ព្រះអង្គសង្គ្រោះ ) ? \_\_\_\_\_
- B. នៅ អោមណែ ១ ៖ [ ក ] \_\_\_\_\_ ។ តើនរណាបានធ្វើជាស្តេចនៅលើផែនដីសារ៉ាហ៊ីមឡា ? \_\_\_\_\_
- C. នៅ [ ខ ] \_\_\_\_\_ ១៧:២ ។ តើនរណាជឿពាក្យសម្តីដែលអំណាចបាននិយាយ ? \_\_\_\_\_
- D. នៅ [ គ ] \_\_\_\_\_ ៥:២២ ។ តើនរណាបានដឹកនាំកូនទីតាំងកំលោះ ២០០០ នាក់ ? \_\_\_\_\_
- E. នៅ [ ឃ ] \_\_\_\_\_ ១៤:២ ។ តើព្រះអង្គសង្គ្រោះនឹងយាងមកប៉ុន្មានឆ្នាំ ? \_\_\_\_\_

- F. នៅ ម៉ូសាយ ៦ : [ ង ] \_\_\_\_\_ ។ តើស្តេចបនយ៉ាមិនបានរស់នៅប៉ុន្មានឆ្នាំទៀត ? \_\_\_\_\_
- G. នៅ នំហ្វឺនី ២ [ ច ] \_\_\_\_\_:២៥ ។ តើលីហៃបានប្រាប់យ៉ូសែប ឲ្យស្តាប់តាមពាក្យសម្តីរបស់នរណា ? \_\_\_\_\_
- H. នៅ [ ឆ ] \_\_\_\_\_ ទី២ ២៣ ។ ក្បាលដំបូកប្រាប់ឲ្យប្រៀបធៀបនឹង អេសាយ \_\_\_\_\_ ។

បទគម្ពីរបាចនា ឆ្នាំ ២០២៤ ៖ [ ច ] \_\_\_\_\_ [ ឆ ] \_\_\_\_\_ [ ង ] \_\_\_\_\_ [ ដ ] \_\_\_\_\_  
តើបទគម្ពីរនេះមានអត្ថន័យយ៉ាងណាដៃចំពោះអ្នក ?

ចម្លើយមាននៅលើទំព័រ ៣១ ។



## ច្រកខ្ចាត់ខ្ចែង ដើមដីវិត

មានតែផ្លូវមួយប៉ុណ្ណោះដែលនាំទៅដល់ដើមដីវិត ។  
តើអ្នកអាចស្វែងរកច្រកនោះបានទេ ?

ដំណោះស្រាយដែលអាចមើលឃើញមាននៅលើគេហទំព័រ [fjsoy.ChurchofJesusChrist.org](http://fjsoy.ChurchofJesusChrist.org) ។








អ្វីដែលយ៉ាប់បំផុតក្នុងការធ្វើជាអ្នកប្រែសម្រួលសំភារៈ លីយ៉ាក គឺត្រូវស្លៀកពាក់ខុស ដែលគាត់ឲ្យបន្ត ។


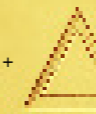


## ពេល បកប្រែ

នៅឆ្នាំណាដែល យ៉ូសែប ស្ទីធី បានបញ្ចប់ការបកប្រែឆ្នាំចំណាត់មាស ? ដើម្បីស្វែងយល់អ្នកនឹងត្រូវដោះស្រាយការផ្គុំបដោយ « បកប្រែ » រវាងទំនាក់ទំនងដែលអាចកំណត់បាន ។ បន្ទាប់មក សូមដោះស្រាយចំណោទគណិតវិទ្យានៅចុងបញ្ចប់ ។

កំណត់ចំណាំ ៖ រាងនីមួយៗកំណត់បានលេខដាក់លាក់មួយ ។ សម្រាប់អ្នកដែលចូលចិត្តសាកល្បង នោះរូបផ្ទុំនេះ *អាច* ត្រូវបានដោះស្រាយដោយគ្មានការប្រយោជន៍ឡើយ ។ ប៉ុន្តែប្រសិនបើអ្នកជាប់គាំង តម្រុយមួយចំនួនមាននៅផ្នែកខាងក្រោមនៃទំព័រនេះ ។

D.  ×  $\frac{9}{2}$   = ៨





E.  ×  = 





A.  +  +  = 

B.  -  = 

C.  +  = 

### បញ្ហាគណិតវិទ្យា ៖

 ×  +  $\frac{9}{2}$   = 

 ×  ×  +  - 900 = \_\_\_\_\_

៤. ៧ = ( ៣ដំបូលមេឌេ ) ៤. លើកម្លិ លើកម្លិ ៖ ៧នូវ ៣អិល  
៥. ( ៨មុលមេឌេ ) = ៧៧ × ៣អិល ( ៧មេឌេ ) ៨ ដំបូលមេឌេ  
៤. ( ៨មុលមេឌេ ) = ៧ ( ៧មេឌេ ) ៥ ដំបូលមេឌេ ៖ ៨នូវ ៣អិល  
៤. ខ្មែរមេឌេ ៨ ដំបូលមេឌេ ៥ ដំបូលមេឌេ ៦ ដំបូលមេឌេ ៖ ៨នូវ ៣អិល